

Eignungsprüfung Allgemeine Musiklehre

DATUM:

NAME:

1. Benennen Sie folgende Noten (auch Oktavbereich angeben):



z.B.: des' _____

2. Bilden Sie zu den notierten Tönen die jeweils angegebenen Intervalle
(g,k,r,ü,v = groß, klein, rein, übermäßig, vermindert; 2, 3, 4... = Sekunde, Terz, Quarte...):



a) nach oben:

k7 r4 g3 g6


b) nach unten:

g7 k3 ü2 v3

3. Bestimmen Sie folgende Intervalle:




4. Notieren Sie die Vorzeichen der angegebenen Tonarten und nennen Sie ihre Paralleltönen:



5. Nennen Sie Tonart und Taktart der folgenden Melodien:

a) 

b) 


c) 

6.a) Welchem Notenwert entsprechen die folgenden Notengruppen insgesamt (pro Takt eine Gruppe)?



z.B.: = \circ

b) Notieren Sie folgende Pausenwerte:



Viertel

Achtel

7. Erklären Sie kurz folgende Begriffe:

a) staccato

b) rallentando

c) Metrum

d) piu mosso